

1. Назвать тональности, в которых нота "сi" будет следующей ступенью: II IV VII. Поставить ключевые знаки, словесное обозначение.



2. Постройте от "Ля": гармонический мажор, мажорную пентатонику, альтерированную гамму.




3. Определите лад музыкального фрагмента.



4. Построить в тональности фа-мажор все характерные интервалы с разрешением




5. Постройте симметричную от заданного нота:



6. В последовательности интервалов определите интервалы и его вид, равнавите шпунки, определите тон-ть и размер.




7. Построить от ноты "дс#" аккорды: Mm_6 ; B_6 ; $M^{\#}m_7$; $y_{m.6}$




8. Построить и сдать последовательность аккордов (каждый свой)



9. Назвать родственные тональности и cis-moll



10. В ритмической линии равнавите тактовые группы



Экзамениционная работа
7 класс (7) ср.-нчс, ссб, оми **IV вариант**


1. Назвать тональности, в которых нота, ре² будет следующей ступенью: IV, VI, III. Записать буквенными обозначениями, поставить крестовые знаки.



2. Постройте от "е"¹ двудесятипараметрический миксоль, фригийский лад, хроматическую гамму



3. Определите вид лада в муз. фрагменте.



4. Постройте в тональности D-dur (натур., гарм.) триадные с разряженными




5. Определите правильно обозначенные интервалы (указать из 5 тактов)

Экзаменационная работа
7 классе (7) ф-носе, соо, оки *вариант №5*


1 Назвать тональности, в которых нота "соль" будет следующей ступенью: VII, V, II. Поставить крестовые знаки, словесные обозначения.




2 Построить от "н": гармонический мажор, лидийский мажор, альтерированную гамму.



3. Определить лад муз. фрагмента:



4 Построить в тональности cis-moll все увеличенные интервалы и разрешить их.



5. Определить интервалы, подписать их обозначения:

